

(第1回 午前)

2026(令和8)年度入学試験問題

社 会

(試験時間：30分)

《注 意》

- (1) 問題は **1** ~ **3** まであります。
- (2) 解答はすべて解答用紙に書いてください。
- (3) 受験番号、氏名を忘れずに書いてください。
- (4) 解答用紙のみ回収します。

城西大学附属
城西中学校

1 次の文章を読み、以下の問いに答えなさい。

第二次世界大戦の終結以降、世界は「戦争のない時代」へと向かうことが期待されたが、現実には各地で武力衝突や内戦が繰り返されてきた。20世紀後半には、①アメリカ合衆国とソビエト連邦という2つの超大国の間で直接的な衝突は回避されたものの、朝鮮戦争やベトナム戦争など、代理戦争と呼ばれる形での衝突が多発した。21世紀に入ってから世界情勢は急速に変化し続けており、日本の外交もより能動的な対応を求められている。こうした世界情勢を地理的に読み解くうえで、重要な視点が2つある。

第一に、「②時差」である。たとえば、ヨーロッパで外交的な緊急事態が発生した場合、東アジアに位置している日本は昼夜問わず対応を迫られることになる。国際会議や安全保障理事会、サミットなどの場でも、リアルタイムでの対応や意思決定が求められる場面では、時差の影響が無視できない。こうした③時間的・空間的な距離は、すばやい情報共有や意思決定において一つのハードルとなる。

第二に、さまざまな「地理的条件」である。たとえば、日本は島国であり、(1)大陸の東端に位置している。これらの地理的条件は、他国と地続きで接していないという安心感を日本国民にもたらす。その一方、諸外国との「感覚距離」が実際の距離以上に大きくなりやすいという面もある。そのため、日本に暮らす私たちは国際紛争や難民問題を「どこか遠い国の話」としてとらえてしまいやすく、世界情勢の変化を正しく認識することを難しくしている。歴史的にも、江戸幕府が17世紀中ごろから導入した「鎖国」が約200年もの長期間にわたって続いた理由の一つに、島国ゆえの出入制限のしやすさという地理的条件があったのは否定できない。

しかし、現代の国際社会では、空間的な距離が離れているからといって諸外国からの影響を完全に遮断できるわけではない。むしろ、ある地域で起こった戦争が④世界的なエネルギー価格の上昇を引き起こすといった事例を見るにつけ、戦争は⑤グローバルな問題として考えなければならない。

また、現代の戦争は、従来のような戦車や爆撃機による大規模な軍事作戦に加えて、自動操縦が可能な小型の飛行機器である(2)やミサイルによる遠隔攻撃、さらにはサイバー攻撃など、技術の進歩によってその形を大きく変えている。情報戦や世論操作など、いわゆる「目に見えない戦争」も行われており、各国は軍事力だけでなく、情報や経済、外交といった多面的な戦略をとっている。

日本が時差や空間的な距離を超えて国際社会と連携するためには、災害時の緊急支援、PKOへの参加、G7・⑥ASEANとの連携など、国際協力のネットワークを強化することが考えられる。これからの日本外交には、空間的な距離や時間の壁を越えて、いかにして世界の国々と共に平和を築くかという姿勢が問われている。

問1 文中の空らん(1)・(2)にあてはまる語句を答えなさい。なお、(2)はカタカナ4字で答えなさい。

問2 下線部①について、このような対立を何というか。漢字2字で答えなさい。

問3 下線部②について、以下の設問に答えなさい。

(1) 時差について述べた次の文章中の空らん(あ)にあてはまる数字を答えなさい。

地球は1日に1周自転をするので、1時間あたり(あ)度動く。そのため、(あ)度の経線のずれで1時間の時差が生まれる。

(2) 日本の標準時子午線である東経135度の経線が通る国として正しいものを次のア～エから1つ選び、記号で答えなさい。

ア. オーストラリア イ. アメリカ合衆国 ウ. 中華人民共和国 エ. インド

問4 下線部③について、次の作品は詩人の谷川俊太郎さんの代表作である「朝のリレー」という詩です。この詩を読み、次ページの設問に答えなさい。

A カムチャツカの若者が きりんの夢を見ているとき
メキシコの娘は 朝もやの中でバスを待っている

B ニューヨークの少女が ほほえみながら寝がえりをうつとき
ローマの少年は 柱頭を染める朝陽にウインクする

この地球では
いつもどこかで朝がはじまっている

ぼくらは朝をリレーするのだ
経度から経度へと

そうしていわば交替で地球を守る

眠る前のひととき耳をすますと

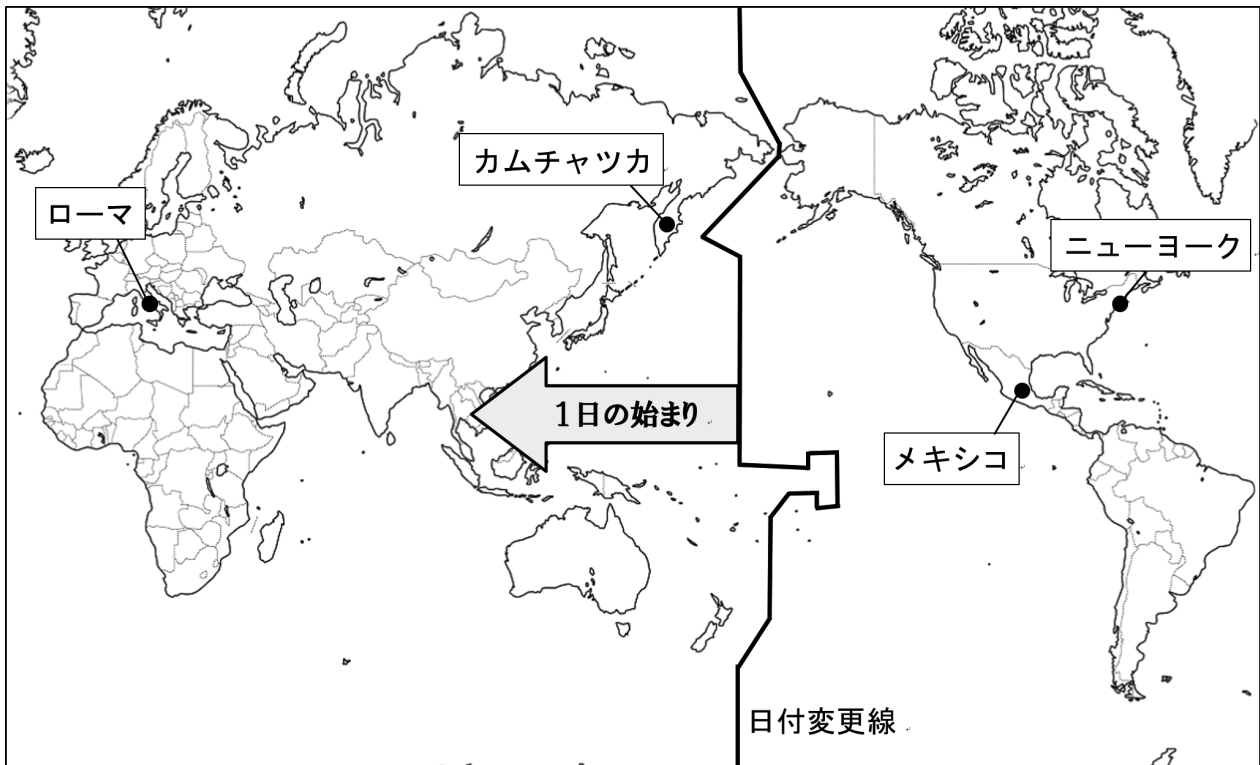
どこか遠くで目覚時計のベルが鳴ってる

それはあなたの送った朝を

誰かがしっかりと受けとめた証拠なのだ

出典 『谷川俊太郎詩集 いまぼくに』

カムチャツカ（ロシア）とメキシコの時差は18時間、ニューヨークとローマの時差は6時間です。詩の中の波線部A・Bについて、次の世界地図を参考に、【 X 】と【 Y 】に入る日時として正しいものを次のア～エの中からそれぞれ1つずつ選び、記号で答えなさい。



A 「カムチャツカの若者がきりんの夢を見ている」日時：2月1日午前0時



「メキシコの娘」が迎えている日時：【 X 】

B 「ニューヨークの少女がほほえみながら寝がえりをうつ」日時：2月1日午前0時



「ローマの少年」が迎えている日時：【 Y 】

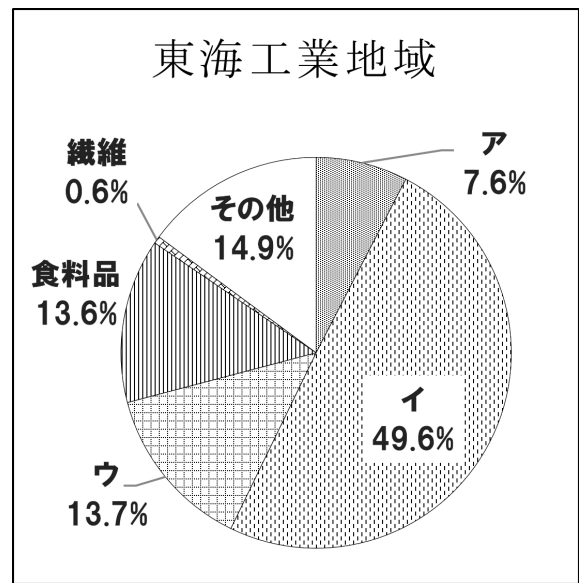
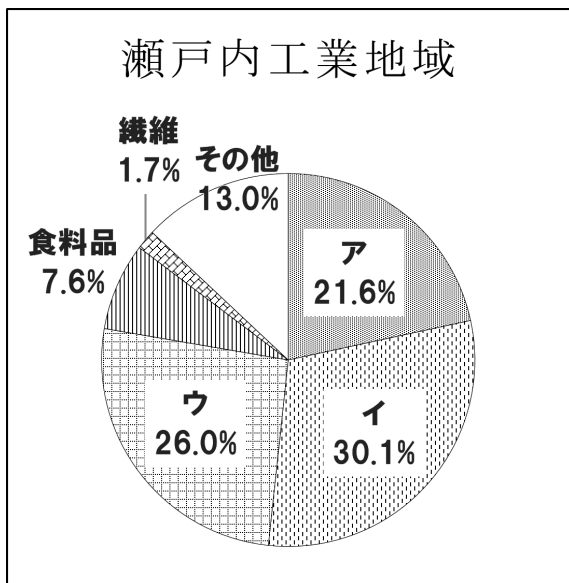
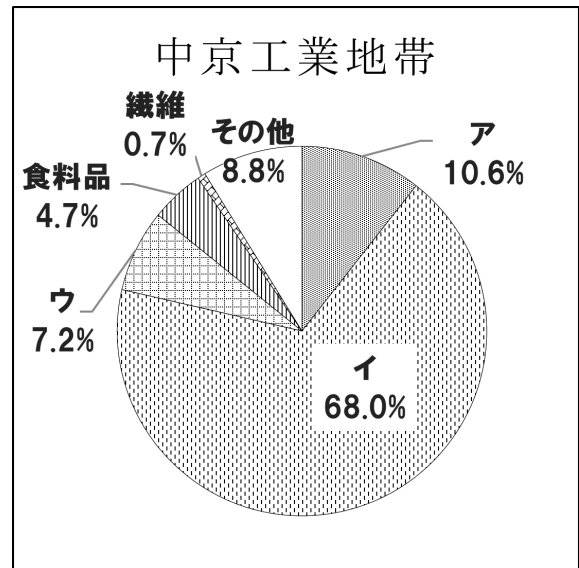
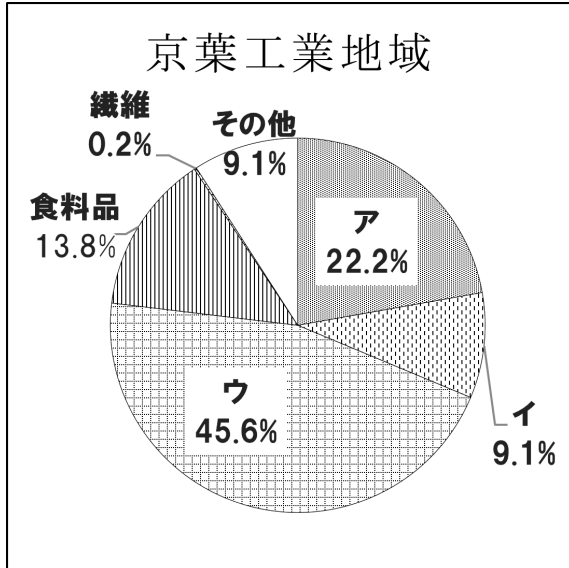
ア. 1月31日 午前6時

イ. 2月1日 午前6時

ウ. 2月1日 午後6時

エ. 2月2日 午前6時

問5 下線部④について、日本は国内で消費される石油の多くを輸入に頼^{たよ}っています。次のグラフは日本のいくつかの工業地帯・工業地域の製造品出荷額の構成を示したものであり、グラフ中のア～ウは機械・金属・化学のいずれかです。石油化学が^{ふく}まれる化学工業にあてはまるものを、ア～ウの中から1つ選び、記号で答えなさい。



(『日本国勢図会 2025/26』より作成)

問6 下線部⑤について、以下の設問に答えなさい。

- (1) 次の地図は、外務省が発表している国地域別の「海外安全情報」であり、色が濃い地域ほど紛争などが多く、訪れる際に注意が必要であることを示しています。なぜこれらの地域で紛争が起きているのか、考えられることを答えなさい。



(出典：外務省 HP)

- (2) 次の図は、海外安全情報の新着情報（2025年8月20日現在）です。ここに記載されている①～⑥の国のうちアジア州に属さない国を2つ選び、番号で答えなさい。









2025/08/18	危険情報	① <u>ウガンダ</u> の危険情報【危険レベル継続】（内容の更新）
2025/08/13	危険情報	② <u>アフガニスタン</u> の危険情報【危険レベル継続】（内容の更新）
2025/08/05	スポット情報	中国：「中国人民抗日戦争及び世界反ファシズム戦争勝利80周年」記念にあたっての各種行事やイベント等に関する注意喚起
2025/08/04	危険情報	中央アフリカの危険情報【危険レベル継続】（内容の更新）
2025/08/04	危険情報	③ <u>カメルーン</u> の危険情報【危険レベル継続】（内容の更新）
2025/07/26	危険情報	④ <u>タイ</u> の危険情報【一部地域の危険レベルの引き上げ】
2025/07/26	危険情報	⑤ <u>カンボジア</u> の危険情報【一部地域の危険レベル引き上げ】
2025/07/24	広域情報	カンボジア・タイ国境における両軍の衝突
2025/07/24	危険情報	⑥ <u>アラブ首長国連邦</u> の危険情報【危険レベル解除】

(出典：外務省 HP)

問7 下線部⑥について、ASEANの正式名称は「諸国連合」です。空らんにあてはまる地域名を書きなさい。

問8 近年急速に発展しているAI（人工知能）は、日常のさまざまな場面で活用されるようになりました。しかし、その情報の正確性には課題が残り、私たちには正しい情報を判断する能力が問われています。次の画像は、生成AIに「地図記号の一覧を作って」と指示して作成された画像です。画像に示された8個の地図記号のうち、国土地理院が定めている地図記号としてあやまっているものはいくつありますか。算用数字で答えなさい。

地図記号

 警察署	 消防署	 小・中学校	 病院
 神社	 寺院	 発電所	 広葉樹林

- 2 夏休みに宮城県大崎市の鳴子温泉なるこに旅行に行った城さんは、旅の途中に気になったことや発見したことを記録にとった。旅行から帰り、その記録をもとに調べたことを整理してみた。これらのメモを読み、以下の問いに答えなさい。

【鳴子温泉まで】

東京から古川まで①東北新幹線りくうに乗り、古川から40分ほど陸羽東線りくうに乗った。2両編成のかわいい列車で②「奥の細道湯けむりライン」という愛称がつけられていた。陸羽東線の車窓からは③広大な田んぼが多く見られた。すでに稲穂が実り、穂先が黄色くなっている田んぼもあった。④田んぼのとなりに稲以外の作物が植えられているところや、雑草が生い茂っているところもあった。

陸羽東線の鳴子温泉～新庄しんじょう間は、2024年7月の大雨災害の影響で、⑤1年以上も運休状態が続いているため、鳴子温泉駅には代行バスが停車していた。陸羽東線は利用者が少なく、JR東日本の中で、最大の赤字線区を含む。

【鳴子温泉の由来】

温泉がわき出た際の轟音ごうおんが鳴り止まなかったことから名付けられたと言われている。また、⑥源義経が、兄・頼朝に追われている最中、鳴子温泉のある大崎の地を訪れたとされている。その際、妻との間にできた子どもの産湯として浸かせたところ、初めて声を上げたことから「啼き子なきこ」が転じて「鳴子」になったという言い伝えがある。

旅館の近くには温泉神社があった。⑦承和4年(837年)の大噴火により噴出した温泉を鎮めるために建こんりゅう立えんぎしきされた延喜式えんぎしきに記されている。境内には噴火の際、飛んできた火山岩がある。延喜式とは養老律令に対する施行細則を集大成した古代の法典。

【鳴子のこけし】

鳴子の伝統工芸品。温泉街にいくつものこけし店があり、こけしの絵付け体験ができる場所もあった。⑧江戸時代の文化・文政年間のころ(1804～1830年)、お椀やお盆ひきを挽く木地師じしたちが子どものために玩具がんぐとして作り、与えたのが始まりとされている。右の写真のように街の各所にこけしのデザインが活かされていた。

写真【 X 】

【⑨旧大崎市立鳴子小学校】

宿泊した旅館の近くにあった小学校。立派な校舎と広い校庭があるが、2025年3月に鳴子温泉地区の小学校2校、中学校1校と統合したため、閉校となった。新しくできた大崎市立鳴子小中学校の2025年4月の新入生は8人であった。

【吉野作造記念館】

鳴子温泉のある宮城県大崎市出身の政治学者である吉野作造(1878～1933年)の記念館。吉野作造は大正デモクラシーの旗手きしゅと言われ、1916年「民本主義」を発表し、⑩普通選挙と政党政治の必要性を説いた。

問1 下線部①について、右の地図を見て、東北新幹線で東京駅から宮城県の古川駅まで乗車したときに通過する都県の順番として正しいものを次のア～エの中から1つ選び、記号で答えなさい。



- ア. 東京都⇒埼玉県⇒茨城県⇒栃木県⇒福島県⇒宮城県
- イ. 東京都⇒埼玉県⇒茨城県⇒群馬県⇒山形県⇒宮城県
- ウ. 東京都⇒茨城県⇒栃木県⇒埼玉県⇒福島県⇒宮城県
- エ. 東京都⇒茨城県⇒埼玉県⇒群馬県⇒山形県⇒宮城県

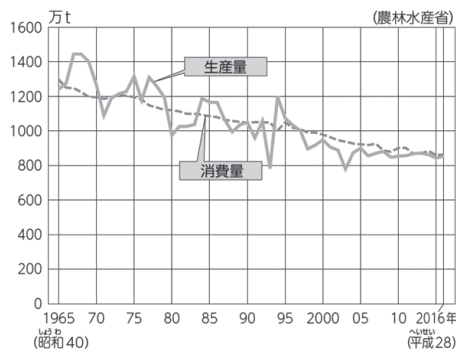
問2 下線部②「奥の細道湯けむりライン」の「奥の細道」とは江戸時代に東北地方を旅した人物の俳諧及び紀行文である。この人物として正しいものを次のア～エの中から1つ選び、記号で答えなさい。

- ア. 千利休 イ. 雪舟 ウ. 松尾芭蕉 エ. 小林一茶

問3 下線部③について、日本に稲作が広まった時代の説明として正しいものを次のア～エの中から1つ選び、記号で答えなさい。

- ア. 打製石器を使って、狩りや採集を行い、洞窟や岩かげなどを住居としていた。
- イ. 台地に定住して、ムラ（集落）をつくり、たて穴住居に住み、高床倉庫もつくられた。
- ウ. 富と権力をもった豪族が各地に現れ、各地の豪族はヤマト王権と結びつきを強めようとした。
- エ. 当時の中国の制度にならい、租・調・庸の税があり、租は稲の収穫の3%を納めた。

問4 下線部④について、車窓から水田を眺めていると、お母さんが「1970年以降、政府がお米を作っている農家に対し、水田をやめることや、他の作物に転作することを奨励した」と話していた。このような政策をとった理由を次の「米の生産量と消費量の変化」のグラフを参考にして、説明しなさい。



問5 下線部⑤について、1年以上も運休していることに驚いた城さんが陸羽東線を調べてみると、次のような意見を見つけた。次の【意見1~4】を読んだ上で、陸羽東線の復旧についてあなたはどうか考えるか、自分の意見を述べなさい。

【意見1】：鳴子温泉～新庄間は利用者が少なく、JR東日本の中で最も採算性が悪い。JR東日本は莫大な費用をかけて、利用者数の少ない路線を復旧させる必要はない。鉄道を廃止して、バスに変えた方が住民の利便性も上がる。

【意見2】：JR東日本が首都圏の山手線の運賃を値上げして、採算の悪い陸羽東線の復旧・維持をするのには、納得できない。

【意見3】：鉄道の復旧は地域住民の生活や観光客の利便性向上につながり、地域経済の活性化に貢献するので、早く復旧するよう行政（国や県・自治体）もJR東日本に働きかけるべきだ。

【意見4】：陸羽東線の沿線には5つも温泉があり、地元の魅力を磨いて大都市から来客を増やせる可能性はある。鉄道の旅は土地の人たちとのふれあいが車や飛行機より多くあり魅力的だ。

問6 下線部⑥について、以下の設問に答えなさい。

(1) 鎌倉時代、源頼朝など将軍と御家人との間には、厳格な主従関係があり、将軍は御家人に対し、先祖代々の領地の支配を保障したり、戦いの功績に応じて新たな領地を与えたりした。一方、御家人は、将軍からの恩恵の見返りとして、戦いの際には命がけで戦場におもむき、また、鎌倉や京都の警護にあたるなど、将軍のために務めを果たすことを義務としていた。この、将軍と御家人の間の相互の関係を示す言葉を、「〇〇と△△」という形で答えなさい。

(2) 源頼朝が開いた幕府は、のちに執権をつとめる一族により実質的に支配されるようになる。その一族として正しいものを次のア～エの中から1つ選び、記号で答えなさい。

ア. 藤原氏 イ. 平氏 ウ. 北条氏 エ. 徳川氏

問7 下線部⑦について、鳴子温泉のもととなる大噴火のあった837年は平安時代にあたる。平安時代について述べたものとして正しいものを次のア～エの中から1つ選び、記号で答えなさい。

- ア. 中大兄皇子と中臣鎌足らが蘇我氏をたおし、中央集権国家をつくった。
- イ. 聖武天皇が国ごとに国分寺、都に東大寺をたて、金銅の大仏をつくった。
- ウ. 坂上田村麻呂が東北地方の蝦夷^{えみし}を攻撃した。
- エ. 清少納言が世界初の長編小説である『源氏物語』を著した。

問8 下線部⑧について、こけしがつくられ始めた江戸時代につくられた書物で、杉田玄白や前野良沢らがオランダ語の人体解剖書^{かいぼうほんやく}を翻訳したものを何というか、漢字4字で答えなさい。

問9 下線部⑨について、城さんが調べてみると、鳴子小学校の前身となる学校は1873（明治6）年につくられたことがわかった。この時期に明治政府が進めた富国強兵の政策について述べたものとして正しいものを次のア～エの中から1つ選び、記号で答えなさい。

- ア. 外国人技術者を招き、欧米の進んだ技術や機械を取り入れ、各地に製糸・紡績などの官営工場をつくり、近代的な産業を育てようとした。
- イ. 交通の分野では、1872年に東京―大阪間に東海道新幹線が開通した。
- ウ. 1873年に行われた地租改正では、課税基準を地価から収穫高に変更し、税を米で納めさせた。
- エ. 西洋式の軍隊をつくるために、1873年に徴兵令を出し、満20歳になった男女から徴兵を行った。

問10 下線部⑩について、吉野作造が説いた普通選挙が日本で実現するのは、1925年の衆議院議員選挙法の改正による。この改正により選挙権を持った人々について述べたものとして正しいものを次のア～エの中から1つ選び、記号で答えなさい。

- ア. 満18歳以上の男女
- イ. 満20歳以上の男女
- ウ. 満25歳以上の男子
- エ. 直接国税15円以上納める25歳以上の男子

問11 城さんのメモの写真【 X 】の位置に入れるのに適する写真を次のア～エの中から1つ選び、記号で答えなさい。

ア



イ



ウ



エ



3 次の文章を読み、以下の問いに答えなさい。

第二次世界大戦に参戦していた日本政府は、1945年8月14日に（ 1 ）宣言を受け入れて連合国に降伏し、終戦を迎えました。その後、①連合国軍総司令部（GHQ）の指示により憲法改正案が作成されました。しかし、その内容は一部の改正にとどまったためGHQに拒否され、大日本帝国憲法を全面的に改めるよう指示を受けました。GHQから草案が示され、これに基づいて日本政府案が発表され、1946年11月3日に日本国憲法が公布され、翌年5月3日から施行されました。

日本国憲法には三つの原則があります。第一に、国の政治のあり方を最終的に決める権利が国民にあるとする「国民主権」。第二に、すべての人が自由で平等な生活を送れるように守られる「（ 2 ）の尊重」。そして第三に、戦争を二度とくり返さないために掲げられた「②平和主義」です。

特に平和主義については、日本国憲法第（ 3 ）条において「戦争の放棄」「戦力の不保持」「交戦権の否認」が定められており、日本が世界の平和を重視する国であることを示しています。これらの原則は、私たちの生活や社会のしくみと深く結びつき、日本の政治や国際関係を考えるうえで大切な意味を持っています。

第二次世界大戦で大きな被害を受けた日本は、2025年に戦後（ 4 ）年を迎えました。戦争を知らない世代が大多数となり、戦争の記憶が風化しないよう努めるとともに、政府は「不戦」の誓いを守る仕組みづくりに意欲を示しています。

問1 文中の空らん（ 1 ）～（ 4 ）にあてはまる語句または数字を答えなさい。

問2 二重下線部について、以下の設問に答えなさい。

- (1) 日本国憲法と大日本帝国憲法の説明として、正しいものを次のア～エの中から2つ選び、記号で答えなさい。

ア. 大日本帝国憲法では天皇が主権を持ち、日本国憲法では国民が主権を持つ。

イ. 大日本帝国憲法では戦争の放棄が定められ、日本国憲法では戦争の自由が認められた。

ウ. 大日本帝国憲法では天皇に与えられた権限が強く、日本国憲法では三権分立が重視される。

エ. 大日本帝国憲法では天皇は象徴であり、日本国憲法では神聖不可侵とされた。

(2) 日本国憲法と比べ、大日本帝国憲法の「人権の保障」は十分とは言えないものであった。その理由を以下の資料を参考にして簡潔に説明しなさい。

(資料)

大日本帝国憲法

第 22 条 日本臣民ハ法律ノ範囲内ニ於テ居住及移転ノ自由ヲ有ス

問 3 下線部①について、連合軍総司令部の初代最高司令官の名前をカタカナで答えなさい。

問 4 下線部②について、平和主義の考え方として、あてはまらないものを次のア～エの中から 1 つ選び、記号で答えなさい。

ア. 日本政府は自衛隊を「必要最小限度の戦力」として認めている。

イ. 国際的な紛争を武力ではなく平和的手段で解決する。

ウ. 自衛隊は「専守防衛」を基本として活動している。

エ. 「核兵器を持たず、つくらず、持ちこませず」という非核三原則を掲げている。

