

(第1回 午前)

2024(令和6)年度入学試験問題

社 会

(試験時間：30分)

《注 意》

- (1) 問題は **1** ~ **3** まであります。
- (2) 解答はすべて解答用紙に書いてください。
- (3) 受験番号、氏名を忘れずに書いてください。
- (4) 解答用紙のみ回収します。

城 西 大 学 附 属
城 西 中 学 校

1 日本人と海のかかわりについて述べた次の文章を読んで、以下の問いに答えなさい。

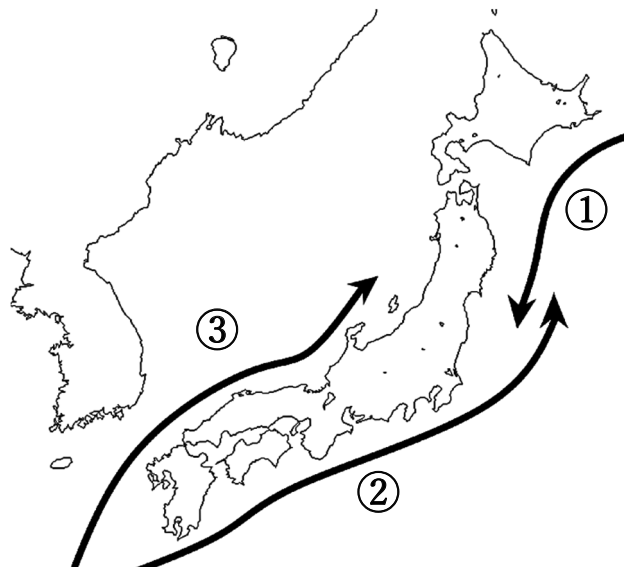
皆さんは「海に行こう」と言われたとき、どのような風景を思いうかべますか。おそらく「広々とした砂浜が広がる海岸」を考えるのではないのでしょうか。しかし、古くから日本人がこのような海岸を好んでいたかという、そうとも言い切れません。

江戸時代の人びとが好んだ海岸の風景として、「日本三景」を考えてみましょう。日本三景は①宮城県の「X」、②広島県の「宮島」、京都府の「天橋立」の3つです。これらには「変化に富む形をしている」「③寺院や神社がある」「松が生えている」といった共通の特徴があります。つまり、現代を生きる皆さんが「海に行こう」と言われてイメージする海の風景と、昔の日本人がイメージした海の風景は違うものだったと考えられます。実は「広々とした砂浜が広がる海岸」は、明治時代以降に海水浴が広まってから好まれるようになったのです。

ところで、明治時代の「海水浴」は現在のように「遊び、楽しむ」ものではなく、海水に身体をひたして病気を治すという医療目的のものでした。そのため、④海水浴場の場所は必ずしも海岸風景が美しいとされたところではありませんでした。たとえば、現在まで海水浴場として栄えている⑤神奈川県の湘南海岸は、もともと医療の場として開かれた海水浴場が「遊び、楽しむ」場所として観光地化し、今にいたるのです。

このように、私たち日本人の生活は今も昔も海とともにあると言っても言いすぎではありません。⑥漁場として海からめぐみを受け、行楽地として海にいやしを求めてきた一方で、海はしばしば⑦私たちの命をおびやかす存在ともなります。皆さんも海をながめたとき、海が持っているさまざまな顔に思いをはせてみてはいかがでしょうか。

問1 次の地図の①～③にあてはまる海流名を、解答らんにあてはまるようにそれぞれ答えなさい。



問2 日本の国土面積は世界で約60位であるにもかかわらず、海岸線は約30,000~35,000kmと、世界有数の長さになっています。国土面積に比べて日本の海岸線が長いのはなぜですか。説明しなさい。

問3 文中の空らん「 X 」にあてはまる語句を答えなさい。

問4 下線部①について、宮城県の県庁所在地を、次のア~エの中から1つ選び、記号で答えなさい。

ア. ^{もりおか}盛岡市

イ. ^{せんだい}仙台市

ウ. ^{こおりやま}郡山市

エ. ^{はちのへ}八戸市

問5 下線部②について、以下の設問に答えなさい。

(1) 次の空中写真は、広島県の県庁所在地である広島市です。このような川が運んできた土砂が河口近くに積もってできた地形を何といいますか。漢字で答えなさい。



(地図・空中写真閲覧サービスより作成)

(2) 2023年5月、広島市でG7サミット(主要国^{しゅのう}首脳会議)が開催されました。G7の7か国としてあてはまらない国を、次のア~エの中から1つ選び、記号で答えなさい。

ア. 日本

イ. 中華人民共和国

ウ. ドイツ


エ. アメリカ合衆国

問6 下線部③について、「寺院」の地図記号を、次のア~エの中から1つ選び、記号で答えなさい。

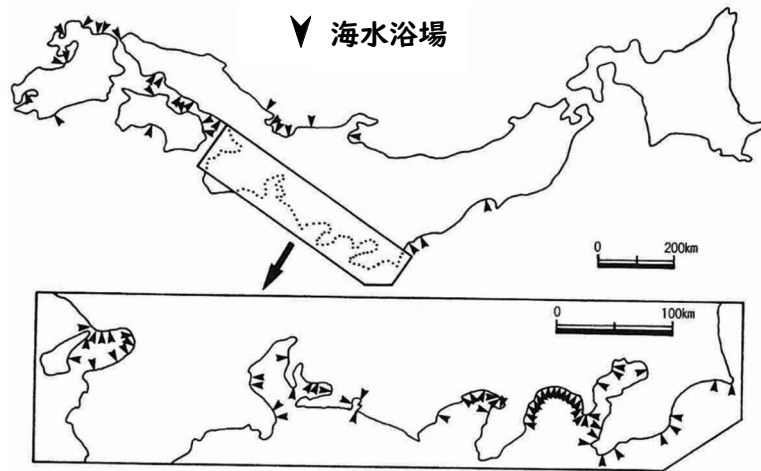
ア. 

イ. 

ウ. 

エ. 

問7 下線部④について、次の地図は1910（明治43）年における海水浴場の分布を示したものです。この地図から読み取れる内容としてふさわしくないものを、次のア～エの中から1つ選び、記号で答えなさい。

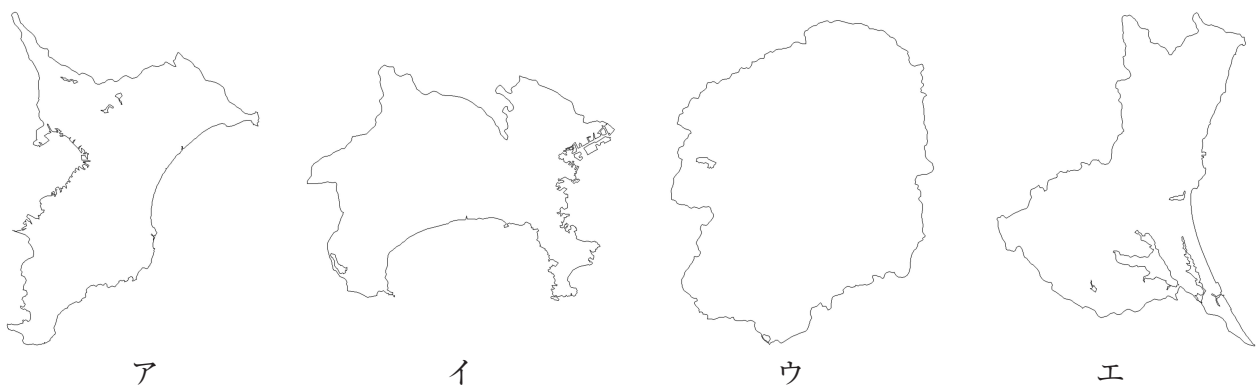


（小口千明・清水克志編（2019）：生活文化の地理学、古今書院、p133 を一部加工）

- ア. 波がおだやかな湾内に海水浴場が多い
- イ. 北海道には海水浴場がない
- ウ. 太平洋側よりも日本海側に海水浴場が多い
- エ. 特に東京・大阪・名古屋といった大都市の近くに多くの海水浴場がある

問8 下線部⑤について、以下の設問に答えなさい。

- (1) 神奈川県^{わん}の形として正しいものを、次のア～エの中から1つ選び、記号で答えなさい。ただし、縮尺は一定ではありません。

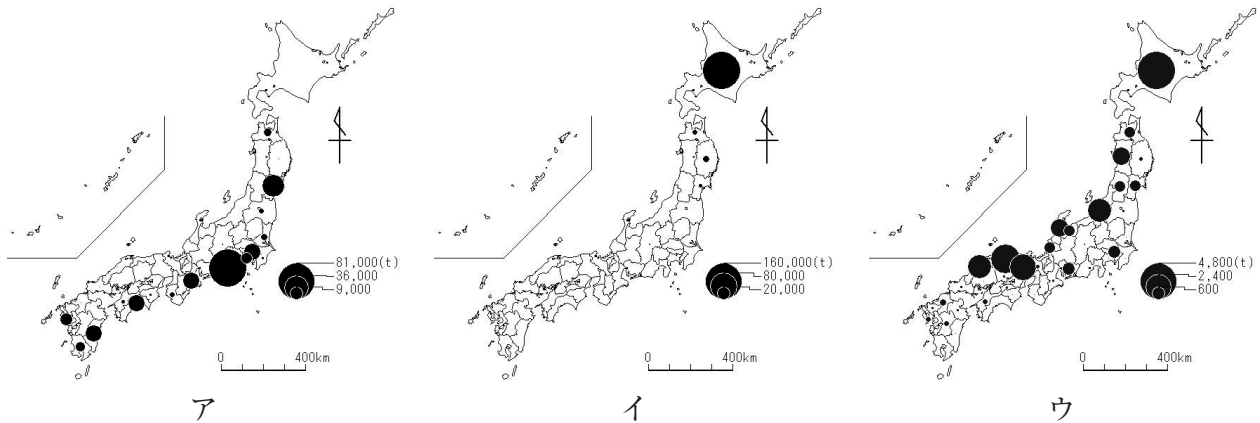


(2) 神奈川県と隣接していない都県を次のア～エの中から1つ選び、記号で答えなさい。

- ア. 静岡県 イ. 東京都 ウ. 埼玉県 エ. 山梨県

問9 下線部⑥について、以下の設問に答えなさい。

(1) 次の地図ア～ウは「すけとうだら」「かつお」「かに類」いずれかの都道府県別水あげ量を表したものです。「かに類」を表した地図を次のア～ウの中から1つ選び、記号で答えなさい。



(令和3年漁業・養殖業生産統計より作成)

(2) 日本は漁業がさかんな一方で、多くの魚介類を海外から輸入しています。次の表は、2021年における日本の輸入水産物上位5つを示したものです。表中のAにあてはまる語句としてふさわしいものを、次のア～エの中から1つ選び、記号で答えなさい。

		単位：億円
1位	【 A 】	2,200
2位	まぐろ	1,824
3位	えび	1,784
4位	かに	673
5位	いか	570

(データブック オブ・ザ・ワールド 2023年版より作成)

- ア. うなぎ イ. たこ ウ. いわし エ. さけ・ます

問10 下線部⑦について、海が私たちの命をおびやかす例として「津波」があげられます。津波による被害が特に大きくなる海岸地形の名前を、解答らんには合うようにカタカナ3字で答えなさい。

2 次の会話文を読み、以下の問いに答えなさい。

先生：2021年の①東京オリンピックは記憶にも新しいと思いますが、みなさんはオリンピックがどのような目的で開催されているか知っていますか。

城さん：スポーツを通してさまざまな国や文化の違いを理解するためだと思います。

西さん：国や選手同士が友好を深めることで世界②平和につながるからではないでしょうか。

先生：二人ともさすがですね、その通りです。ではオリンピックの歴史について少しだけお話しします。オリンピックの歴史は、今から③約2800年前にさかのぼります。それは古代ギリシャのオリンピア地方で行われていた「オリンピア祭典競技」で、もともとは神々をあがめる体育や芸術の競技祭だったといわれています。その後、数々の戦乱に巻き込まれた古代オリンピックは、④4世紀末に幕を閉じてしまいました。しかし、この古代オリンピックから1500年後、フランスの教育者であったクーベルタン男爵^{だんしゃく}によって、オリンピックは復活の道を歩み始め、1896年、ギリシャのアテネで記念すべき第1回オリンピックが開催されました。

西さん：日本が参加し始めたのはいつからですか。

先生：日本は1912年、スウェーデンのストックホルムで開催された第5回オリンピックで初参加を果たしています。

城さん：1912年は日本の年号が明治から（ア）に変わった年でもありますよね。

先生：そうですね、日本では護憲運動^{こけんうんどう}や⑤社会運動が活発になっていく時期でもあります。では、今年（2024年）の夏季オリンピックがどこで開催されるか知っていますか。

城さん：え〜っと、確か⑥フランスでしたよね。

先生：よく知っていますね。今年の夏季オリンピックはフランスのパリが開催地となっています。ちょうど100年前の1924年の夏季オリンピックもパリが開催地でした。ちなみに、第1回冬季オリンピックは1924年1〜2月で、こちらもフランスのシャモニーという地で開催されています。しかし、日本はこの大会への選手派遣を見送っています。なぜかわかりますか。

西さん：前年（1923年）9月に（イ）が発生したからですか。

先生：その通りです。被害が大きかったため参加を見送りました。

また、2021年の東京オリンピックは本来2020年に開催予定でしたが、新型コロナウイルスの世界的な流行によって延期になりました。これまで⑦5回中止にはなっていますが、オリンピックが延期になった例はこれが初めてです。

城さん：そうだったんですね。

西さん：世界的なイベントだからこそ、世界情勢の影響を受けることがわかりました。

先生：オリンピックだけでなく、さまざまなできごとにおいて、日本と世界の情勢とを重ね合わせて考えることが大事になってきますね。

問1 文中の空らん（ア）・（イ）にあてはまる語句をそれぞれ漢字で答えなさい。

問2 下線部①について、1964年の東京オリンピックはアジアでは初開催となりました。

このとき開通した世界初の高速鉄道を漢字3字で答えなさい。

問3 下線部②に関連して、日本は世界で唯一の戦争被爆国です。

日本が定めている「核兵器をもたず、つくらず、もちこませず」という原則を何と申しますか。

問4 下線部③について、日本は当時、縄文時代です。縄文時代に関する以下の設問に答えなさい。

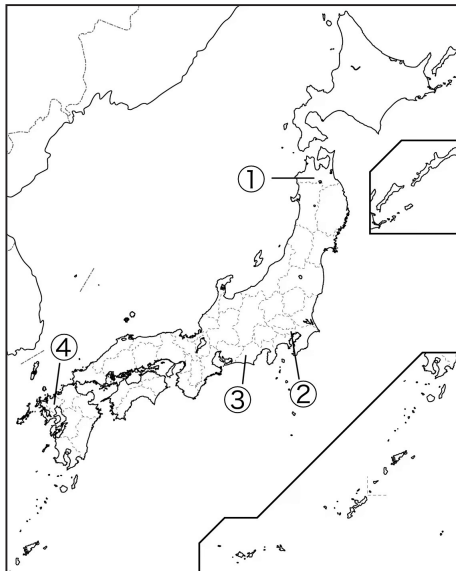
(1) 縄文時代の特徴を述べた以下の文にあてはまる語句を下の語群からそれぞれ選び、記号で答えなさい。

縄文時代の特徴として縄文土器や【 1 】石器、骨角器などが挙げられる。当時の人々は【 2 】住居に住み、【 3 】・採集を行っていた。また、子孫繁栄や豊作を祈るために用いられたとされる【 4 】も作られた。

縄文時代の主な遺跡として大森貝塚や【 5 】遺跡が有名である。

ア. 狩猟 しゅりょう イ. 三内丸山 さんないまるやま ウ. 打製 エ. 土偶 オ. 放牧
カ. たて穴 キ. はにわ ク. 磨製 ケ. 吉野ヶ里 よしのがり コ. 高床

(2) 文中の波線部の遺跡の場所を次の地図中①～④の中から1つ選び、番号で答えなさい。



問5 下線部④に関連して、古墳時代には渡来人によって日本にも仏教が伝わり、その後奈良時代になると仏教は国家によって保護され、広く浸透していきました。奈良時代に建立された寺院を次のア～エの中から1つ選び、記号で答えなさい。

ア. 本能寺 イ. 東大寺 ウ. 鹿苑寺 ろくおんじ エ. 慈照寺 じしょうじ

問6 下線部⑤に関連して、当時の社会運動に関する以下の設問に答えなさい。

- (1) 1925年に制定された、社会や政治を変えようとする運動を取り締まる法令を答えなさい。
- (2) 次の文章は雑誌『青鞆』の創刊号の巻頭に掲載された平塚らいてうによる有名な文の一部です。また、【資料1】は平塚らいてうの略年表です。【資料1】を参考にし、この文章から平塚らいてうのどのような意図が読み取れるか、「～意図」につながる形で説明しなさい。なお、文章は現代仮名遣いに直してあります。

元始、女性は実に太陽であった。真正の人であった。今、女性は月である。他に
よって生き、他の光によって輝く、病人のような蒼白い顔の月である。・・・

【資料1】

1886年	東京都で誕生
1903年	「女子を人として、婦人として、国民として教育する」という教育方針に憧れて日本女子大学校（現：日本女子大学）家政学部に「女子には女学校以上の学問は必要ない」という父を説得して入学
1906年	日本女子大学校を卒業
1911年	青鞆社を設立し、女性文芸誌『青鞆』を刊行
1919～ 1920年	市川房枝らと新婦人協会を結成し、婦人参政権獲得運動に尽力

問7 下線部⑥に関連して、日本とフランスが関係を築いたのは江戸時代のことです。

江戸時代に関する次の設問に答えなさい。

- (1) 江戸幕府の政策として正しいものを次のア～エの中から1つ選び、記号で答えなさい。
 - ア. 1615年、徳川秀忠のときに出された御成敗式目で参勤交代が制度化された。
 - イ. 徳川家康は座の結成を奨励した。
 - ウ. 徳川吉宗は目安箱を設置し、民衆の意見を政治に取り入れた。
 - エ. 徳川慶喜は参勤交代をゆるめるかわりに幕府へ米を献上させた。
- (2) 江戸幕府の鎖国政策について、オランダ商館は平戸から長崎のどこに移されたか答えなさい。


(3) 江戸時代の文化について、右の絵の作者を次のア～エの中から1つ選び、記号で答えなさい。

ア. き た がわうたまろ
喜多川歌麿

イ. ひしかわもろのぶ
菱川師宣

ウ. うたがわひろしげ
歌川広重

エ. かつしかほくさい
葛飾北斎



(国立国会図書館デジタルコレクションよりダウンロード)

問8 下線部⑦について、オリンピックが中止になった理由は5回全てが戦争です。

下の表の空らん（ア）にあてはまる戦争名を漢字で答えなさい。

年	開催地	中止理由
1916年	ベルリン（ドイツ）	（ア）により中止
1940年（冬季）	札幌（日本）	日中戦争により中止
同上（夏季）	東京（日本）	
1944年（冬季）	コルチナ・ダンペッツォ（イタリア）	第二次世界大戦により中止
同上（夏季）	ロンドン（イギリス）	

3 次の文章を読み、以下の問いに答えなさい。

2011年（ 1 ）、宮城県沖を震源として発生した巨大地震と津波によって引き起こされた「東日本大震災」は、（ 2 ）県、宮城県、福島県、茨城県などの広い範囲に大きな被害をもたらし、①福島第一原子力発電所においても事故が発生しました。

震災直後から、政府はすぐに特別な予算を立て、必要な②法律を制定し支援してきました。また、2012年2月から③新しい省庁を設置しました。被災した地域が生活を取り戻すために、建物や道路、ガス、水道などのインフラ再建の他、社会や経済の復興、被災者の支援、防災対策の強化などを中心とした活動が積極的に行われています。活動に必要な予算に、わたしたちの④税金が使われています。

事故から12年余り経った2023年8月、日本政府は会議で、福島第一原子力発電所にたまる放射性物質を含む処理水について、基準を下回る濃度に薄めた上で海への放出を始めることを決定しました。これに対し、環境への影響を心配する声も多くあり、⑤周辺国との関係にも影響が出ています。また、すべての放出が終わるまでに30年程度かかるとのこと。

問1 文中の（ 1 ）に入る月日を、次のア～エの中から1つ選び記号で答えなさい。

ア. 2月11日 イ. 3月11日 ウ. 8月15日 エ. 9月11日

問2 文中の（ 2 ）について、津波による^{しんすいひがい}浸水被害が特に大きかった陸前高田市などがある県の名前を答えなさい。

問3 下線部①について、日本における発電方法で「再生可能エネルギー」にあてはまらないものを次のア～エの中から1つ選び、記号で答えなさい。

ア. 火力発電 イ. 風力発電 ウ. 太陽光発電 エ. バイオマス発電

問4 下線部②について、法律を制定できる日本で唯一の^{ゆいいつ}機関はどこか答えなさい。

問5 下線部③について、「新しい省庁」として正しいものを次のア～エの中から1つ選び、記号で答えなさい。

ア. デジタル庁 イ. ^{きんゆう}金融庁 ウ. 復興庁 エ. 観光庁

問6 下線部④について、1989年に3%の税率で導入され、現在は標準税率が10%、飲食料
品などが8%の軽減税率として設定されている税金の名前を答えなさい。

問7 下線部⑤について、特に^{りん}隣国とトラブルになることが多くありますが、国の主権が及
ぶ領域として、あてはまらないものを次のア～エの中から1つ選び、記号で答えなさい。

ア. 公海 イ. 領空 ウ. 領土 エ. 領海

